

HANSER



Leseprobe

zu

Aufgabensammlung zur Baustatik

von Kai-Uwe Bletzinger, Falko Dieringer, Rupert Fisch
und Benedikt Philipp

Print-ISBN 978-3-446-47278-5

E-Book-ISBN 978-3-446-47356-0

Weitere Informationen und Bestellungen unter

<https://www.hanser-kundencenter.de/fachbuch/artikel/9783446472785>

sowie im Buchhandel

© Carl Hanser Verlag, München

Vorwort

Die Idee für dieses Übungsbuch ist in einem Teamgespräch zum Stand der Lehre am Lehrstuhl für Statik der Technischen Universität München im Jahr 2011 entstanden. Die Autoren haben beschlossen, den Studierenden mehr Übungsmaterial zu den Handrechenverfahren der Statik an Stabtragwerken zur Verfügung zu stellen.

Friedrich Dürrenmatt schreibt in *Die Physiker*: „Was einmal gedacht wurde, kann nicht mehr zurückgenommen werden“. So findet sich im Erlernen von Statik die Parallele darin, dass ein statisches System, welches bereits einmal durchdacht wurde, nicht wieder vergessen werden kann. Das mehrmalige Rechnen ein und derselben Aufgabe stellt somit nur einen geringen Mehrwert dar, da der zentrale Baustein, das Tragwerks- bzw. Systemverständnis, bereits beim ersten Mal durchdacht wurde.

So ist die Motivation gewachsen eine umfangreiche Aufgabensammlung aufzubauen, in der eine ausreichende Anzahl an Übungsaufgaben zur Verfügung gestellt wird.

Durch die verfügbaren Kontrollmöglichkeiten ist ein selbstständiges Erlernen der Statik möglich. Zum besseren Einstieg in die verwendete Notation sind jedem Kapitel eine thematische Einführung und Musteraufgaben vorangestellt. Die mitgelieferte Stabwerkssoftware *Stiff* bietet einzigartige Kontroll- und Ergänzungsmöglichkeiten zur Bearbeitung des Buches und rundet somit das Gesamtpaket „Aufgabensammlung zur Baustatik“ ab.

Nach mehrjährigem erfolgreichem Einsatz dieser Aufgabensammlung innerhalb der Technischen Universität München wird dieser Aufgabenschatz in überarbeiteter Fassung als Gesamtwerk in diesem Buch dem kompletten Publikum an Studierenden und Schülern im deutschsprachigen Raum bereitgestellt.

Wir wünschen Ihnen damit viel Erfolg!

Zuletzt gilt unser Dank allen Studenten und Helfern, die, vom Erstellen, über das Gegenrechnen, hin zur Fehleridentifikation der Aufgaben und Musterlösungen, einen maßgeblichen Beitrag zum Gelingen des Gesamtwerks geleistet haben.

Kai-Uwe Bletzinger

Falko Dieringer

Rupert Fisch

Benedikt Philipp

Vorwort zur zweiten Auflage

Auch im Zeitalter vollständig virtueller Welten bildet das Erlernen von theoretischen Hintergründen und deren sichere Anwendung nach wie vor das Fundament akademischer Ausbildung. Gleichzeitig stellen diese Fähigkeiten im Alltag der konstruktiven Ingenieure und Ingenieurinnen ein wichtiges und wertvolles Grundwerkzeug dar. Nur wer das Erlernte sicher anwenden kann, ist auch in der Lage, die täglichen Herausforderungen selbstverantwortlich zu meistern und Neues zu schaffen.

Die erste Auflage des Buchs erschien im Jahr 2015 und wird mittlerweile in einigen Hochschulen und Universitäten als Übungsbuch neben den klassischen Vorlesungsunterlagen empfohlen. Zum einen begleitend zu den Lehrveranstaltungen und zum anderen direkt für die Prüfungsvorbereitung.

Die vorliegende zweite Auflage wurde inhaltlich aktualisiert und erweitert. Einige Aufgaben wurden auf Grundlage wertvoller Rückmeldungen überarbeitet. Die begleitende Lehrsoftware *Stiff* wurde laufend erweitert und wesentlich fortentwickelt. Vollständig neu in dieser Auflage ist die kapitelweise inhaltliche Begleitung mit digitalen Inhalten und Videos.

Lassen Sie sich begeistern und erlernen Sie die statischen Grundfähigkeiten für Ihre persönliche Entwicklung und Ihre erfolgreiche Zukunft. Lassen Sie sich von einem Zitat von Seneca dabei begleiten: „Nicht, weil es schwer ist, tun wir es nicht; sondern weil wir es nicht tun, ist es schwer“.

Kai-Uwe Bletzinger

Falko Dieringer

Rupert Fisch

Benedikt Philipp

Inhalt

Vorwort	V
Digitale Inhalte	XIII
1 Einleitung und Definitionen	1
1.1 Zur Benutzung des Buchs	1
1.2 Definition der Auflagersymbole	2
1.3 Definition der Gelenkarten	5
1.4 Allgemeine Hinweise	5
2 Tragwerksbeurteilung	7
2.1 Grundlagen zur Tragwerksbeurteilung	7
2.2 Beispielaufgabe 1	10
2.3 Beispielaufgabe 2	12
2.3.1 System 1	13
2.3.2 System 2	14
2.3.3 System 3	15
2.3.4 System 4	16
2.4 Beispielaufgabe 3	16
2.5 Aufgaben	19
2.6 Lösungen	33

3	Schnittgrößen statisch bestimmter Systeme	35
3.1	Grundlagen zur Berechnung von Schnittgrößen an statisch bestimmten Tragwerken	35
3.2	Beispielaufgabe 1	37
3.2.1	Auflager- und Zwischenreaktionen	37
3.2.2	Schnittgrößen: Moment	38
3.2.3	Schnittgrößen: Querkraft	39
3.2.4	Schnittgrößen: Normalkraft	40
3.2.5	Entfernen des Momentengelenks am Knoten 4	41
3.2.6	Lösen der Einspannung am Knoten 1	42
3.3	Beispielaufgabe 2	43
3.3.1	Auflagerreaktionen	43
3.3.2	Schnittgrößen: Moment	44
3.3.3	Schnittgrößen: Querkraft	46
3.3.4	Schnittgrößen: Normalkraft	47
3.4	Aufgaben	49
3.5	Lösungen	64
4	Polplan, Kinematik	65
4.1	Grundlagen zu Polplänen und Kinematik	65
4.1.1	Begriffe zu Polplänen	65
4.1.2	Regeln zur Bestimmung der Haupt- und Nebenpole einer einzelnen Scheibe i	68
4.1.3	Ermittlung der Verschiebungsfigur für kinematische Systeme	71
4.1.4	Widersprüche im Polplan	73
4.2	Beispielaufgabe 1	75
4.2.1	System 1	75
4.2.2	System 2	77
4.2.3	System 3	81
4.3	Beispielaufgabe 2	84
4.3.1	System 1	85
4.3.2	System 2	87
4.3.3	System 3	89
4.4	Beispielaufgabe 3	91
4.4.1	Verschiebungsfigur	92
4.4.2	Brauchbares System	95
4.5	Aufgaben	96
4.6	Lösungen	109

5	Prinzip der virtuellen Kräfte	111
5.1	Grundlagen zum Prinzip der virtuellen Kräfte	111
5.2	Beispielaufgabe	114
5.2.1	Schnittgrößen aus gegebener Belastung	114
5.2.2	Verschiebungen am Knoten 2	116
5.2.3	Horizontalverschiebung am Knoten 2 maximal 4,0 cm	119
5.3	Aufgaben	120
5.4	Lösungen	137
6	Prinzip der virtuellen Verschiebungen	139
6.1	Grundlagen zum Prinzip der virtuellen Verschiebungen	139
6.2	Beispielaufgabe	142
6.2.1	Vertikale Auflagerkraft B_V am Lager B	142
6.2.2	Querkraft V_a im Schnitt a	145
6.2.3	Moment M_a im Schnitt a	149
6.2.4	Normalkraft N_b im Schnitt b	152
6.3	Aufgaben	155
6.4	Lösungen	172
7	Kraftgrößenverfahren	173
7.1	Grundlagen zum Kraftgrößenverfahren	173
7.2	Beispielaufgabe 1	177
7.2.1	Tragwerk 1	177
7.2.2	Tragwerk 2	179
7.2.3	Tragwerk 3	179
7.2.4	Tragwerk 4	180
7.3	Beispielaufgabe 2	182
7.3.1	Lastfall 1: Einzellast P	182
7.3.2	Lastfall 2: Temperaturdifferenz ΔT	186
7.3.3	Lastfall 3: konstante Temperaturänderung T_S	187
7.3.4	Lastfall 4: Auflagerverschiebung Δu	189
7.4	Aufgaben	192
7.5	Lösungen	207
8	Einflusslinien für Kraftgrößen	209
8.1	Grundlagen zu Einflusslinien für Kraftgrößen	209
8.2	Beispielaufgabe	212
8.2.1	Bestimmung der Einflusslinien	212

8.2.2	Extremwerte für das Moment M_8	216
8.2.3	Maximale Momente im Tragwerk und Verformungen am Knoten 10	217
8.3	Aufgaben	220
8.4	Lösungen	237
9	Einflusslinien für Verschiebungsgrößen	239
9.1	Grundlagen zu Einflusslinien für Verschiebungsgrößen	239
9.2	Beispielaufgabe	244
9.2.1	Vertikale Verformung w_3	244
9.2.2	Einflusslinie für w_3	246
9.2.3	Auswertung für Lastfall p	249
9.2.4	Ersetzen der Feder durch ein Auflager – Berechnung mit Stiff	249
9.2.5	Minimale bzw. maximale Durchsenkung von w_3 – Berechnung mit Stiff	250
9.3	Aufgaben	252
9.4	Lösungen	268
10	Verschiebungsgrößenverfahren nach Theorie I. Ordnung	269
10.1	Grundlagen zum Verschiebungsgrößenverfahren	269
10.2	Beispielaufgabe 1	277
10.2.1	System 1	278
10.2.2	System 2	286
10.3	Beispielaufgabe 2	293
10.4	Beispielaufgabe 3	298
10.4.1	Kinematische Abhängigkeiten	299
10.4.2	Steifigkeiten mit dem PvV	299
10.4.3	Berechnung mit Stiff	302
10.5	Beispielaufgabe 4	304
10.5.1	Kinematische Abhängigkeiten	304
10.5.2	Steifigkeiten mit dem PvV	305
10.5.3	Berechnung mit Stiff	307
10.6	Aufgaben	308
10.7	Lösungen	326
11	Elastisch gebetteter Balken	327
11.1	Grundlagen zum elastisch gebetteten Balken	327
11.2	Beispielaufgabe	331
11.2.1	Verformungen am idealisierten 2D-System	332
11.2.2	Verankerung des Balkens 2	339

11.3	Aufgaben	339
11.4	Lösungen	356
12	Verschiebungsgrößenverfahren nach Theorie II. Ordnung	359
12.1	Grundlagen zum Verschiebungsgrößenverfahren nach Theorie II. Ordnung	359
12.2	Beispielaufgabe	366
	12.2.1 Verformungen ohne Berücksichtigung einer Vorverformung	366
	12.2.2 Verformungen mit Berücksichtigung einer Vorverformung	370
12.3	Aufgaben	372
12.4	Lösungen	397
13	Stabilität	399
13.1	Grundlagen zur Stabilität	399
13.2	Beispielaufgabe	407
	13.2.1 Berechnung der Knotenverformungen nach Theorie I. und II. Ordnung für $\nu = 1,0$	407
	13.2.2 Berechnung des kritischen Lastfaktors ν_{krit}	411
	13.2.3 Knickfigur für ν_{krit}	412
	13.2.4 Überprüfung der Ergebnisse mit Stiff	413
	13.2.5 Bestimmung der Euler'schen Knicklast und der jeweiligen Knicklänge der einzelnen Stäbe	415
13.3	Aufgaben	416
13.4	Lösungen	433
14	Grundformeln und Tafeln	435
14.1	Integraltafeln	435
14.2	ω -Tafeln	437
14.3	Grundformeln des Verschiebungsgrößenverfahrens (VV) nach Theorie I. Ordnung	438
14.4	Grundformeln des Verschiebungsgrößenverfahrens (VV) nach Theorie II. Ordnung	447
14.5	Grundformeln des Verschiebungsgrößenverfahrens (VV) des elastisch gebetteten Balkens nach Theorie I. Ordnung	455
	Literaturverzeichnis	459

1

Einleitung und Definitionen

■ 1.1 Zur Benutzung des Buchs

Das vorliegende Arbeitsbuch stellt Ihnen eine Aufgabensammlung zu den zentralen Inhalten der im deutschsprachigen Raum stattfindenden Statik-Vorlesungen an Hochschulen und Universitäten bereit.

Jedes Kapitel behandelt einen abgeschlossenen Themeninhalt und beginnt mit einer Aufarbeitung der theoretischen Hintergründe. Dann wird ein Ablaufschema bzw. „Kochrezept“ dargestellt und auf umfassende Beispielaufgaben angewendet, für die ausführliche Musterlösungen dargestellt werden. Idealerweise gehen wir davon aus, dass die Leserinnen und Leser des Buches sich intensiv mit diesen Musterlösungen auseinandersetzen, so dass sie Struktur und Ablauf dieser beispielhaften Lösungsgänge sinngemäß auf die folgenden Aufgaben übertragen und dann selbstständig bearbeiten können. Das wird anfänglich nicht einfach sein, ist aber eines der wichtigsten didaktischen Ziele dieses Buches, nämlich Fähigkeiten zur eigenständigen Problemlösung zu entwickeln und einzuüben. Denn genau darauf kommt es im Berufsalltag an, wenn man sich neuen Projekten stellen muss.

Im Rahmen der digitalen Inhalte werden die Themen nochmals aufgegriffen bzw. wiederholt und die zielsichere Anwendung vorgemacht. Dies erfolgt beispielhaft mit der zum Download verfügbaren Software Stiff.

In jedem Kapitel folgen nach den ausführlichen Musterbeispielen weitere 30 Aufgaben zum Selberüben. Sie sind nach Schwierigkeitsgrad klassifiziert, um bei der Orientierung zu helfen, welche Aufgaben Sie sich zutrauen oder um einzuschätzen, wie weit Sie mit dem eigenen Wissensstand und Lernfortschritt bereits gekommen sind. Am Ende jedes Kapitels finden Sie zu jeder Aufgabe Lösungswerte ausgewählter Größen (z.B. Schnittgrößen oder Verschiebungen) für die Kontrolle der eigenen Rechnung. Ein zusätzlicher und überaus wichtiger Lernerfolg wird erzielt, wenn Sie sich parallel zur Handrechnung eine eigene Musterlösung erstellen, indem Sie die Aufgabe mit einer geeigneten software modellieren und berechnen, wie z.B. mit unserer Software Stiff. Auch dazu braucht man die angegebenen Lösungswerte zur Kontrolle. Sie werden schnell merken, wie die alterna-

tiven Herangehensweisen Ihr eigenes Verständnis für Statik und Ihre Sicherheit bei der Handrechnung fördern. Wie Sie mithilfe geeigneter Software eine Musterlösung anfertigen können, dazu finden Sie in den digitalen Inhalten weitere Hilfestellungen.

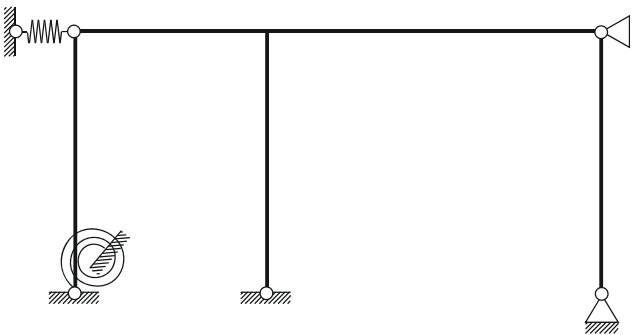
Jede Aufgabe soll zum Verständnis des Themas beitragen, indem Sie sich über die eigentliche Aufgabenstellung hinaus damit beschäftigen. Es ist dabei sehr wichtig, dass Sie sich dafür Zeit nehmen und jeden Schritt sorgfältig durchführen. Es wird dabei vorkommen, dass Sie die angegebenen Lösungswerte nicht auf Anhieb ermitteln. Dies ist kein Grund zur Verzweiflung, sondern der Beginn des tatsächlichen, gründlichen Lernens, indem Sie Ihre Handrechnung Schritt für Schritt mithilfe der eigenen Musterlösung durchgehen. So können Sie die Fehler entdecken und beurteilen, ob es nur Flüchtigkeitsfehler sind oder tatsächliche Wissenslücken, um die Sie sich nochmal kümmern sollten. Mit einer gründlich bearbeiteten Aufgabe lernen Sie mehr, als wenn Sie viele nur oberflächlich behandeln. Durch diesen Prozess werden Sie am Ende stärker aus der Aufgabe herausgehen – mit dem Ziel einer virtuellen Beherrschung der Inhalte, einem besseren Gefühl für Tragwerke und einer guten Prüfungsnote.

Wir wünschen Ihnen viel Erfolg!

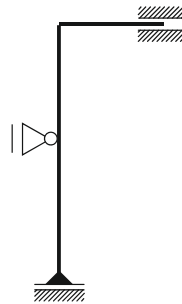
■ 1.2 Definition der Auflagersymbole

Im Folgenden werden allgemein verwendete Auflagersymbole anhand einiger Beispiele und Tabellen eingeführt:

Häufig verwendete Auflagersymbole:




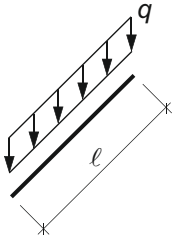
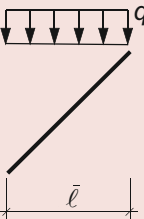
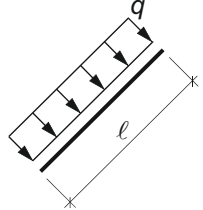
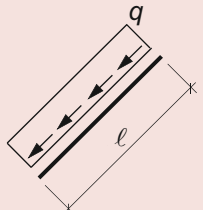
Weitere verwendete Auflagersymbole:



Symbol	Beschreibung	Freie Verschiebungsgrößen	Auflagerreaktionen
	Zweiwertiges Auflager: Beide Verschiebungen sind festgehalten, die Verdrehung ist frei.		
	Einwertiges/Verschiebliches Auflager: Eine Verschiebung ist festgehalten, die andere Verschiebung und die Verdrehung sind frei.		
	Einspannung: Beide Verschiebungen und die Verdrehung sind festgehalten.		
	Senkfeder (auch Dehnfeder oder Normalkraftfeder): Die Verschiebung in Richtung der Feder ist über das Federgesetz $F_f = k_f \cdot u_f$ mit der Durchsenkung u_f gekoppelt. Analog zum Pendelstab leistet die Feder keinen Widerstand senkrecht zu ihrer Achse.		
	Drehfeder (auch Rotationsfeder): Die Verdrehung der Feder ist über das Federgesetz $M_\varphi = k_\varphi \cdot \varphi$ mit der Verdrehung φ gekoppelt. Die Verschiebungen werden durch die Drehfeder nicht festgehalten.		
	Biegesteifes verschiebliches Lager: Verschiebung senkrecht zum Stab bzw. in Stablängsrichtung ist nicht festgehalten.		

Einführung der allgemein verwendeten Lastsymbole:

Symbol	Beschreibung
	Ungleichmäßige Temperaturverteilung über den Querschnitt: Im Allgemeinen wird die Differenz zwischen der Temperatur an der Querschnittsunterseite T_u und der Querschnittsoberseite T_o angegeben.
	Gleichmäßige Temperaturverteilung über den Querschnitt: Hierbei wird davon ausgegangen, dass die Temperatur an der Querschnittsunterseite T_u und der Querschnittsoberseite T_o gleich ist.
	Eingeprägte Einzelverschiebung: Die jeweils angegebene Verschiebung bezieht sich auf einen bestimmten Punkt im Tragwerk. Im Allgemeinen können auch eingeprägte Rotationen vorhanden sein.

Symbol	Beschreibung
	<p>Einzellast und Einzelmoment: Die jeweils angegebene Belastung bezieht sich auf einen bestimmten Punkt im Tragwerk.</p>
	<p>Global orientierte Linienlast q: Die Linienlast ist global orientiert, hier in vertikaler Richtung nach unten. Diese Linienlast bezieht sich auf die gesamte Stablänge l. Dieser Typ von Linienlast kann zur Modellierung von Eigengewichtslasten verwendet werden.</p>
	<p>Global orientierte Linienlast q: Die Linienlast ist global orientiert, hier in vertikaler Richtung nach unten. Diese Linienlast bezieht sich auf die projizierte Stablänge \bar{l}. Dieser Typ von Linienlast kann zur Modellierung von Schneelasten verwendet werden.</p>
	<p>Lokal orientierte Linienlast q: Die Linienlast ist lokal orientiert, hier senkrecht zur Stablängsachse. Die Linienlast bezieht sich auf die gesamte Stablänge l. Dieser Typ von Linienlast kann zur Modellierung von Windlasten verwendet werden.</p>
	<p>Lokal orientierte Linienlast q: Die Linienlast ist lokal orientiert, hier parallel zur Stablängsachse. Die Linienlast bezieht sich auf die gesamte Stablänge l.</p>

Einführung von allgemein verwendeten Parametern und Formelzeichen:

E Elastizitätsmodul

G Schubmodul

A Querschnittsfläche

I Flächenmoment 2. Grades (Flächenträgheitsmoment)


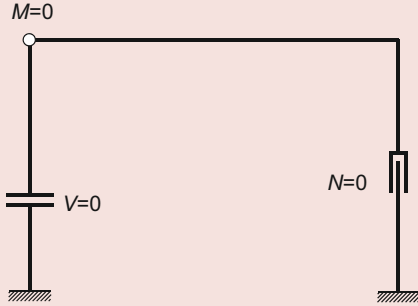


α Temperatureausdehnungskoeffizient

h Querschnittshöhe

k Federsteifigkeit

■ 1.3 Definition der Gelenkarten

Einführung von allgemein verwendeten Gelenktypen:

Symbol	Beschreibung	Beispiel
$M=0$ 	Momentengelenk: Das Moment ist an diesem Punkt gleich Null $M = 0$. Normalkräfte und Querkräfte können übertragen werden.	
$V=0$ 	Querkraftgelenk: Die Querkraft ist an diesem Punkt Null $V = 0$. Normalkräfte und Momente können übertragen werden.	
$N=0$ 	Normalkraftgelenk: Die Normalkraft ist an diesem Punkt gleich Null $N = 0$. Querkräfte und Momente können übertragen werden.	

■ 1.4 Allgemeine Hinweise

In den folgenden Aufgaben wird die Balkentheorie nach Euler-Bernoulli verwendet. Hierbei gelten die bekannten Annahmen:

- Ebenbleiben des Querschnitts,
- Schubverzerrungen können vernachlässigt werden.

Hieraus ergeben sich die zwei wesentlichen Steifigkeiten zur Definition eines Querschnittes aus statischer Sicht:

- Axiale Steifigkeit EA als Produkt aus Elastizitätsmodul E und Querschnittsfläche A
- Biegesteifigkeit EI als Produkt aus Elastizitätsmodul E und Flächenmoment 2. Grades I um die lokale y -Achse

Aus baustatischer Sicht kann oft für Querschnitte mit entsprechenden Steifigkeiten die Annahme getroffen werden, dass eine unendlich große Steifigkeit vorliegt (EA und/oder $EI \rightarrow \infty$). Diese Annahme erleichtert im Allgemeinen die Handrechnung. Für die Modellierung eines Tragwerks mithilfe eines Computerprogramms muss für jede Steifigkeit eine endliche Größe angegeben werden. Bei der Definition der Steifigkeiten ist hierbei zu beachten, dass die unendliche Steifigkeit mittels einer ausreichend großen Zahl, d.h. mehrere Zehnerpotenzen größer als die größte vorkommende Steifigkeit, berücksichtigt wird. Hierbei sollten jedoch die Grenzen numerischer Berechenbarkeit unbedingt beachtet werden.

2

Tragwerksbeurteilung

Videos zu diesem Kapitel finden Sie unter



■ 2.1 Grundlagen zur Tragwerksbeurteilung

Zur Beurteilung der Lagerung und des inneren Aufbaus eines Tragwerks ist der Grad der statischen Unbestimmtheit eine wichtige Aussage. Er ist u. a. auch ein Maß für die Redundanz des Tragwerks gegenüber Versagen. Bei Anwendung der Auf- und Abbaukriterien kann gleichzeitig auch die Brauchbarkeit eines Systems beurteilt werden. Abzählformeln vergleichen dagegen nur die Zahl der statisch unbekanntes Größen und die verfügbaren Bestimmungsgleichungen. Eine in allen Fällen zweifelsfreie Bestimmung des Grades der statischen Unbestimmtheit ist damit nicht möglich. Von der Verwendung von Abzählformeln wird daher abgeraten.

Beim Vorgehen nach dem Abbaukriterium wird das Tragwerk kontrolliert durch gedachte Schnitte in ein brauchbares, statisch bestimmtes System überführt. Die Zahl der dabei freigeschnittenen inneren Größen entspricht dem Grad der statischen Unbestimmtheit.

Bei der Anwendung des Abbaukriteriums greift man auf die drei in Tabelle 2.1 dargestellten statisch bestimmten und brauchbaren Grundtragwerke zurück.

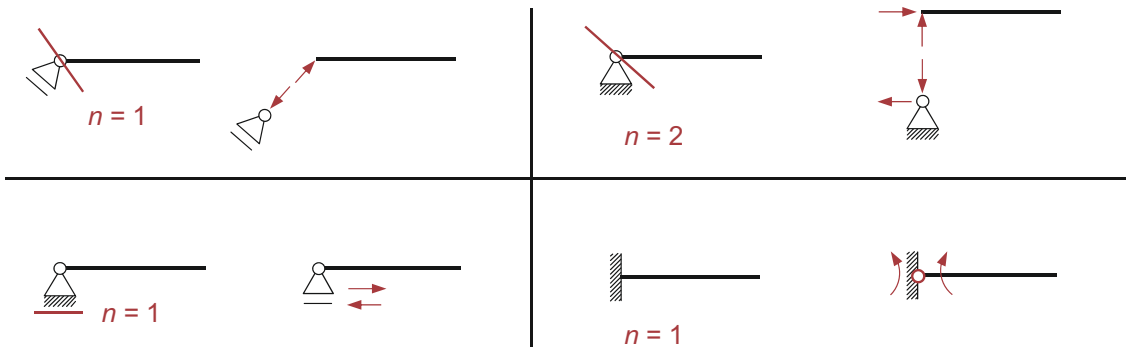
Tabelle 2.1 Statisch bestimmte und brauchbare Grundtragwerke

	Grundtragwerk	Erweitertes Grundtragwerk	Unbrauchbarer Sonderfall
Kragträger			ungelagert
Balken mit 3 Lagerkräften			Wirkungslinien der Lagerkräfte treffen sich in einem Punkt
Dreigelenktragwerk (3-GTW)			Gelenke liegen auf einer Linie

Der Nachweis der Brauchbarkeit ist automatisch erbracht, wenn

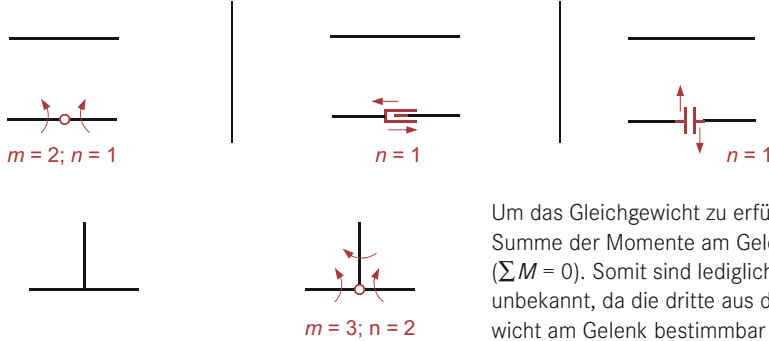
- das Tragwerk in ein statisch bestimmtes System überführt werden kann, welches aus Kombinationen der Grundtragwerke besteht und
- die kinematischen Ausnahmefälle vermieden werden (vgl. auch Kapitel 4 – Polplan, Kinematik).

Für die Überführung in ein statisch bestimmtes System sind Teil- oder Vollschnitte erforderlich. Die Anzahl der ausgelösten Lager- bzw. Schnittkräfte, d.h. der statischen Unbekannten oder Überzähligen (vgl. Kapitel 7 – Kraftgrößenverfahren), bestimmt den Grad n der statischen Unbestimmtheit.



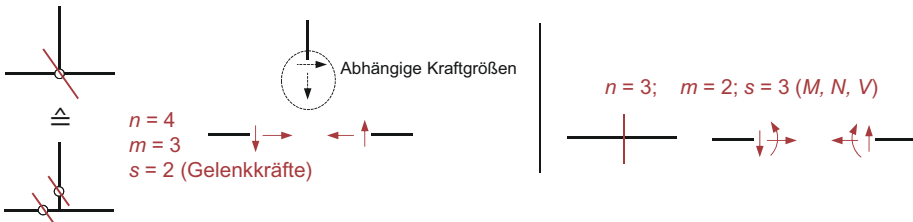
Auslösen von Lagerkräften

Verbindet ein zusätzlich eingeführtes Gelenk m Stäbe, so werden $n = m - 1$ unbekannte Kraftgrößen ausgelöst.



Um das Gleichgewicht zu erfüllen, muss die Summe der Momente am Gelenk 0 ergeben ($\sum M = 0$). Somit sind lediglich 2 Kraftgrößen unbekannt, da die dritte aus dem Gleichgewicht am Gelenk bestimmbar ist.

Auslösen von Schnittgrößen durch Einführen von Gelenken



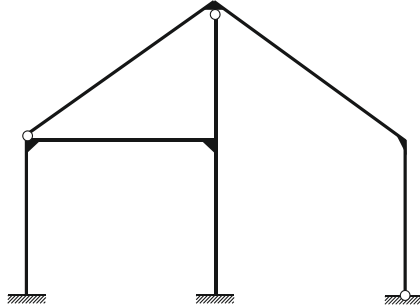
Entfernen von Gelenken

Vollschnitt eines Stabes

Entstehen am Vollschnitt m Schnittufer, so werden $n = (m - 1) \cdot s$ unbekannte Kraftgrößen ausgelöst. Dabei ist s die Zahl der ursprünglich übertragbaren Schnittgrößen.

■ 2.2 Beispielaufgabe 1

Machen Sie das nachstehende Tragwerk auf drei unterschiedliche Arten statisch bestimmt.

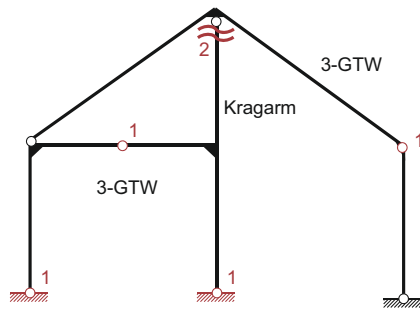


Das gegebene Tragwerk wird in statisch bestimmte Grundsysteme (Kragträger, Balken mit 3 Lagerkräften, 3-Gelenk-Tragwerk) zerlegt. Die Anzahl der dabei freigeschnittenen Schnittgrößen entspricht dem Grad der statischen Unbestimmtheit n .

Für das gegebene Tragwerk gilt: $n = 6$.

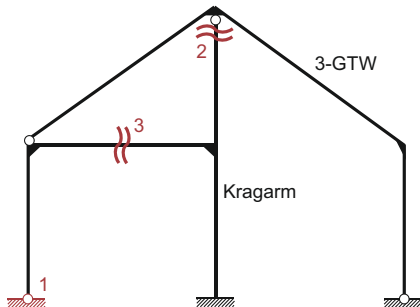
Im Folgenden werden mehrere Lösungsmöglichkeiten aufgezeigt, doch sind auch andere Lösungen möglich:

Anmerkung: Die Zahlen geben die Anzahl der jeweils freigeschnittenen Schnittgrößen an.



Variante 1:

Das Tragwerk besteht aus einem 3-Gelenk-Tragwerk (links), an das ein senkrechter Kragarm anschließt. An dieses System wird ein weiteres 3-Gelenk-Tragwerk angehängt. Da der Kragarm direkt am oberen Gelenk durchgeschnitten wird, werden hier nur 2 Schnittgrößen frei (im Gelenk gilt $M = 0$).



Variante 2:

Bei dieser Möglichkeit wird das Tragwerk in zwei separate Systeme (einem Kragarm und ein 3-Gelenk-Tragwerk) aufgeteilt. Beim Schnitt direkt am Gelenk werden 2 Schnittgrößen freigeschnitten (vgl. Variante 1).